


Naselja nizinskih krajeva


Ime:


1.  Sela su smještena...
- A uz šumu C uz brežuljke
B uz prometnice

2. Najveće selo u RH je:
- A Čepić B Čigoč C Čepin

3. Naselja su samo sela?
- A Da B Ne


4. U nizinskom kraju ima mnogo naselja?
- A Da B Ne


5.  Veći gradovi su većinom smješteni uz:
- A more B prometnice C rijeke


6.  Grad Zagreb se nalazi na istoku nizinskog kraja?
- A Da B Ne

7. Pronađi uljeza među gradovima nizinskog kraja.
- A Osijek C Đakovo E Petrinja
B Vukovar D Vinkovci F Slavonski Brod

8. Pronađi uljeza među Karlovačkim rijekama.
- A Kupa B Sava C Mrežnica D Dobra E Korana

9.  Glavno središte Posavine je...
- A Požega C Nova Gradiška
B Slavonski Brod

10.  Podravkina vegeta proizvodi se u...
- A Bjelovaru B Karlovcu C Koprivnici

11.  Važna riječna luka na Dunavu i grad heroj je...
- A Vukovar B Osijek C Vinkovci

12. Gradovi uz rijeku Dravu su:
- Odaberi 2 odgovor(a)
- A Varaždin B Čakovec C Koprivnica D Zagreb E Sisak