

# Pravac, polupravac, dužina

Ime:

1. Ravna neomeđena crta je...

- A  pravac      B  polupravac      C  dužina

2. Pravac obilježavamo...

- A  malim slovom      B  velikim slovom

3. Ravna crta omeđena s jedne strane je...

- A  pravac      B  dužina      C  polupravac

4. Početnu točku polupravca obilježavamo...

- A  malim slovom      B  velikim slovom

5. Ravna crta omeđena sa dvije točke je...

- A  polupravac      B  dužina      C  pravac

6. Krajnje točke dužine obilježavamo...

- A  malim slovima      B  velikim slovima

7. Koja je najmanja jedinična dužina?

- A  1 dm      B  1 mm      C  1 cm

8. Koja je najveća jedinična dužina?

- A  1 m      B  1 dm      C  1 cm

9. Kako kraće zapisujemo 5 centimetara?

- A  5 cem      B  5 CM      C  5 cm


10. Kako kraće zapisujemo 8 metara?

- A  8 m      B  8 M      C  8 mt

11. Što znači kratica 1 dm?


- A  1 decilitar      B  1 decimetar      C  10 metara

12. Što je nacrtano?



- A  pravac      B  polupravac      C  dužina

13. Što je nacrtano?




- A  pravac      B  polupravac      C  dužina

14. Što je nacrtano?




- A  pravac      B  polupravac      C  dužina

15. Točke M i N nazivamo...




- A  početne točke      B  krajnje točke

16. Točku B nazivamo...



- A  početna točka      B  krajnja točka

17. Točke C i D spojene su...



- A  ravnom crtom      B  zakrivljenom crtom

18. U zapisu 4 cm, oznaka jedinične dužine je...

- A  4      B  cm

19. U zapisu 9 m, 9 je...

- A  mjerni broj      B  oznaka jedinične dužine