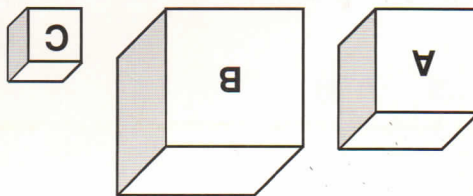


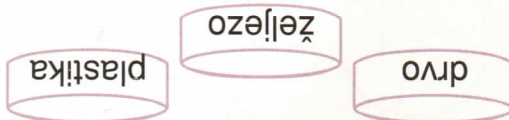
MJERENJE MASE

1. Pažljivo promotri nacrane drvene kocke i zaokruži točan odgovor.




Najveću masu ima kocka A B C.
 Najmanju masu ima kocka A B C.

2. Promotri crteže i odgovori.



Najveću masu ima _____
 Najmanju masu ima _____

3. Možeš li odrediti masu ovih predmeta?



Da bismo znali točnu masu predmeta, potrebna nam je sprava koja se zove _____

4. Napiši jedinične veličine za mjerenje mase.

5. Napiši kraticama.

1 kilogram = _____
 1 dekagram = _____
 1 gram = _____

6. Preračunaj.

1 kg = _____ dag
 5 kg = _____ dag
 1 dag = _____ g
 5 dag = _____ g
 1 kg = _____ g
 50 g = _____ dag